

受験番号			

2024年度 神戸山手女子中学校 中期午前 適性検査型入学試験

市民社会

(1 ページ～8 ページ)

11:00～11:30 (30分)

注意

- 1 検査開始の指示があるまで問題冊子を開いてはいけません。
- 2 声を出して読んではいけません。
- 3 解答用紙は1枚です。
- 4 検査の開始後すぐに、問題冊子のページがそろっているか、解答用紙が入っているか、確認しなさい。
- 5 受験番号を解答用紙の決められた場所に記入しなさい。
- 6 答えはすべて解答用紙に丁寧に記入し、解答用紙だけを提出しなさい。
- 7 文字数を数えるときは、句読点や記号も1字として数えます。

神戸山手女子中学校

1 やよいさんとさつきさんの対話を読み、次の問いに答えなさい。

やよいさん 私たちは「日本の情報サービス」について発表することになったね。

さつきさん 情報サービスにはどんな種類があるのかな？

やよいさん まずはそれをまとめてみようよ。

資料1 いろいろな情報サービス

1 新聞

新聞には、大手新聞社による全国紙、複数の県をまたいで販売されているブロック紙、個々の県で発行される県紙などの地方紙がある。新聞販売は約96%が個別販売であるが、インターネットの普及によって、①新聞を購読する人は減っている。

2 テレビ・ラジオ

日本の放送事業には、受信料収入をもとに公共放送を行うNHK、広告収入や有料放送の料金をもとに経営を行う民間放送事業者がある。2020年は、新型コロナウイルス感染症の影響などにより、民間放送の売上が大幅に減少した。しかし、2021年は、7月から8月にかけて開催された②の放映などにより、広告費が回復した。

3 出版

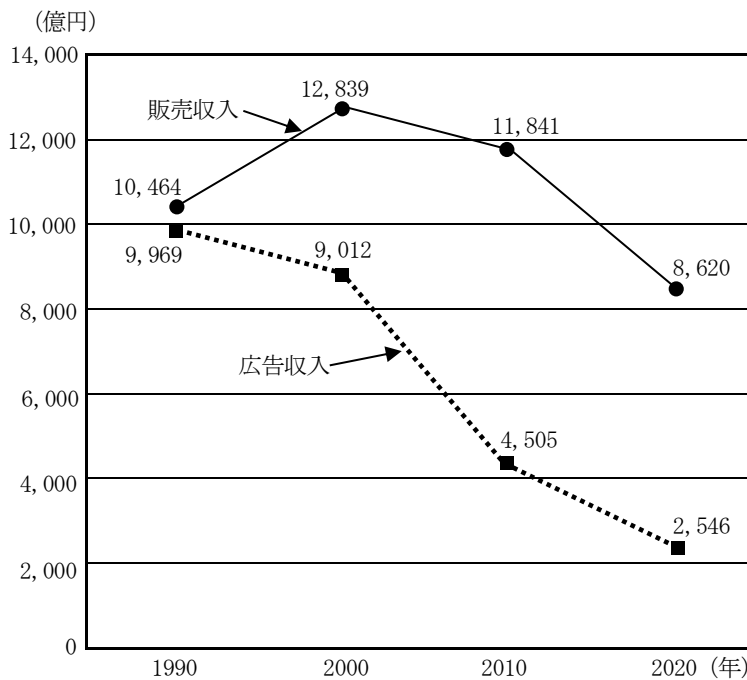
出版業には、書籍販売、雑誌販売などがあり、紙の出版物のほか、電子メディアを使って著作物を流す電子出版がある。国内の書店数は、2000年から2020年にかけておおよそ半数近くにまで減少しているが、③2021年の出版市場の販売額は、3年連続の増加となった。

4 ④インターネット

日本のインターネット利用者率は、2020年では83.4%となっている。この普及率の高さにともない、インターネット広告費は増加し続けている。コロナ禍で進んだ社会のデジタル化を背景として、⑤2021年のインターネット広告費が、マスコミ四媒体広告費（新聞、雑誌、ラジオ、テレビの広告費の合算）を初めて上回った。

問1 下線部①について、資料2は新聞社の販売収入と広告収入の移り変わりを示したものです。資料2から読み取れることとして正しいものを、あとのア～エから1つ選び、記号で答えなさい。

資料2 新聞社の販売収入と広告収入の移り変わり



- ア 1990年以降、販売収入と広告収入はどちらも減少し続けている。
- イ 販売収入と広告収入を合わせた額は、1990年が最も多かった。
- ウ 2020年の広告収入は1990年の広告収入の30%未満である。
- エ 2020年の販売収入額は、2010年より4,000億円以上少ない。

問2 資料1の にあてはまる言葉を、カタカナ6字で書きなさい。

問3 下線部③について、資料3は紙の出版と電子出版の市場規模の移り変わりを示したものです。資料3を参考にして、出版市場の販売額が増加している理由を、10字以上20字以内で書きなさい。

資料3 紙の出版と電子出版の市場規模の移り変わり

(単位：億円)

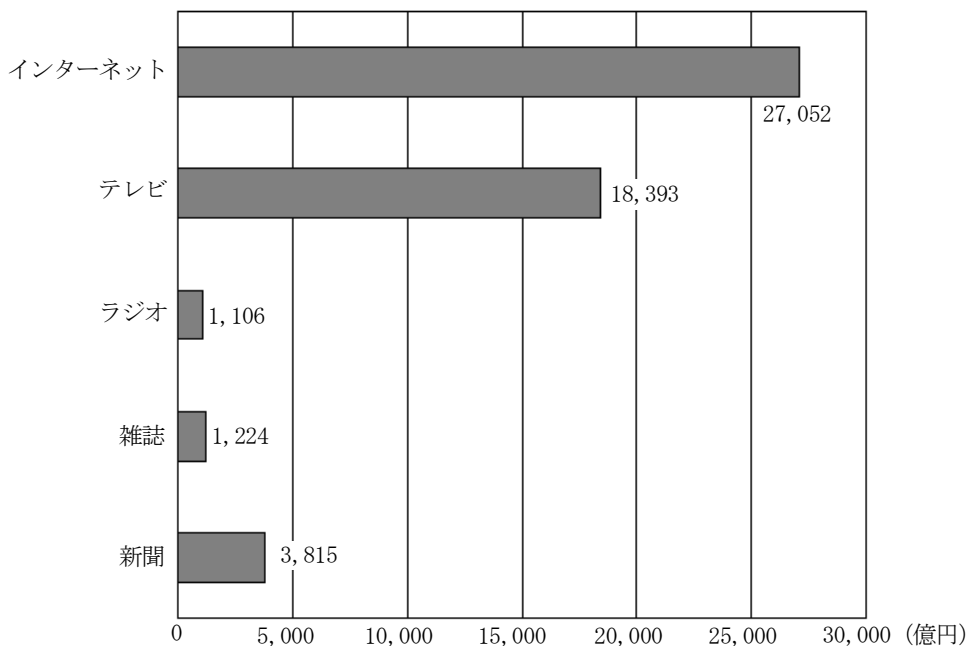
	2016年	2017年	2018年	2019年	2020年	2021年
紙の出版	14,709	13,701	12,921	12,360	12,237	12,080
電子出版	1,909	2,215	2,479	3,072	3,931	4,662

(「日本国勢図会 2022/23」より作成)

問4 下線部④について、私たちはインターネットから非常に多くの情報を受け取ることができます。インターネットから情報を受け取る時に注意しなければいけないことを1つ、自分の言葉で書きなさい。

問5 下線部⑤について、資料4は2021年の媒体別広告費を示したものです。2021年のインターネット広告費は、マスコミ四媒体広告費の約何倍ですか。計算して求めなさい。ただし、答えは小数第2位を四捨五入して、小数第1位まで求めなさい。

資料4 2021年の媒体別広告費



(「日本国勢図会 2022/23」より作成)

2 やよいさんたちの学級では、これまでに社会科の授業で学習した内容の中で興味をもったテーマについて研究し、発表することになりました。それぞれの研究に関する次の問いに答えなさい。

■やよいさんの研究テーマ「日本の電力」

資料1 発電電力量の移り変わり (単位：%)

	1980年	1990年	2000年	2010年	2020年
A	15.9	11.2	8.9	7.8	9.1
B	69.6	65.0	61.3	66.7	83.2
C	14.3	23.6	29.5	24.9	3.9
その他	0.2	0.2	0.3	0.6	3.8

(「日本国勢図会 2022/23」より作成)


問1 資料1のA～Cの発電の種類を組み合わせとして正しいものを、次のア～エから1つ選び、記号で答えなさい。

- ア A 水力 B 原子力 C 火力 イ A 原子力 B 水力 C 火力
 ウ A 原子力 B 火力 C 水力 エ A 水力 B 火力 C 原子力

問2 資料1の「その他」には、太陽光発電、風力発電、地熱発電がふくまれます。これらの発電に利用されるエネルギーは自然界に常に存在するエネルギーで、「つぎることがない」、「温室効果ガスを排出^{はいしゅつ}しない」などの特ちょうがあります。このようなエネルギーを□□□□エネルギーといいます。□□□□にあてはまる言葉を漢字4字で書きなさい。

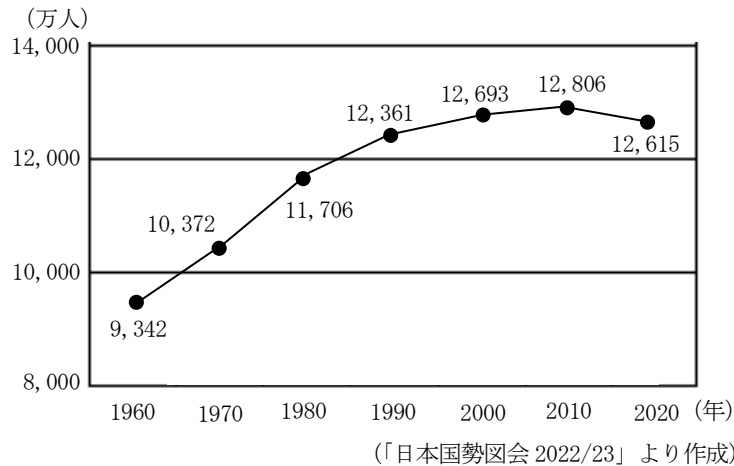
■さつきさんの研究テーマ「日本の人口」

資料2 各国の年れい別人口構成



(「世界国勢図会 2022/23」より作成)

資料3 日本の人口の移り変わり



資料4 日本の最近の人口の動き

	2016年	2017年	2018年	2019年	2020年
人口 (万人)	12,704	12,692	12,675	12,656	12,615
人口増減率 (%)	-0.04	-0.10	-0.13	-0.15	-0.32

(「日本国勢図会 2022/23」より作成)

さつきさんのまとめ

資料2は2020年の日本、アメリカ、中国、インドの年れい別人口構成を示しています。資料2から、日本は他国に比べて、高れい化が進んでいることがわかります。

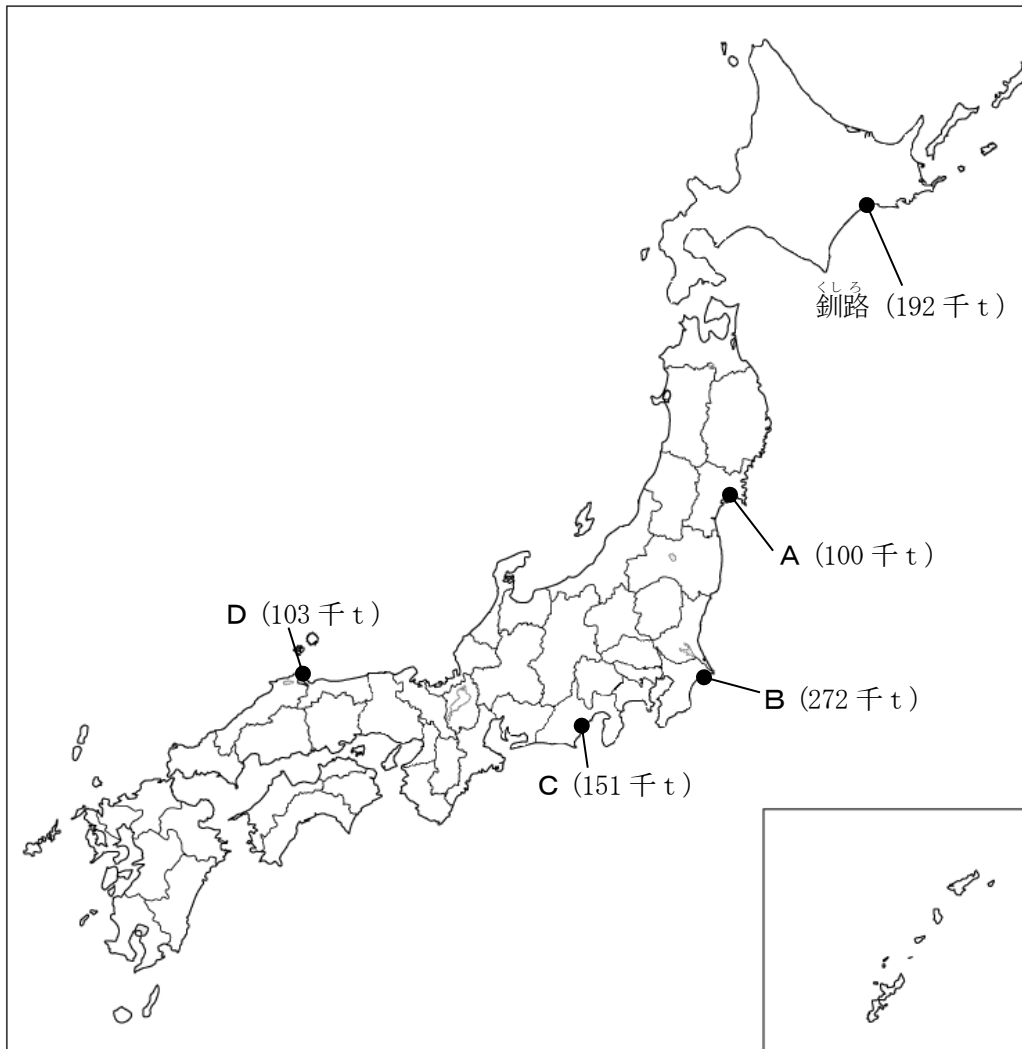
資料3は1960年～2020年の日本の人口の移り変わりを、資料4は日本の最近の人口の動きを示しています。資料3から、日本の人口は2010年まで増加が続いていたものの、2010年から2020年にかけては減少していることがわかります。また、資料4から、2016年以降の日本の人口は ことがわかります。

問3 さつきさんのまとめを参考にして、日本の年れい別人口構成のグラフとして適切なものを、資料2のA～Eから1つ選び、記号で答えなさい。

問4 さつきさんのまとめの にあてはまる言葉を、5字以上10字以内で書きなさい。

■むつきさんの研究テーマ「日本の水産業」

資料5 2020年の水あげ量が日本で上位5位までの漁港



(「日本国勢図会 2022/23」より作成)

問5 資料5のA～Dの漁港名の組み合わせとして正しいものを、次のア～エから1つ選び、記号で答えなさい。

- | | | | | |
|---|------|------|------|------|
| ア | A 境 | B 銚子 | C 石巻 | D 焼津 |
| イ | A 石巻 | B 境 | C 焼津 | D 銚子 |
| ウ | A 石巻 | B 銚子 | C 焼津 | D 境 |
| エ | A 銚子 | B 石巻 | C 境 | D 焼津 |

3 やよいさんとさつきさんの、日本の住まいの歴史についての対話を読み、次の問いに答えなさい。

やよいさん もともとは移動しながら簡単なテントや岩かげなどで生活していた人々は、縄文時代になると穴を掘った地面に柱を立てて屋根をかけた ① に住み始めたのね。

さつきさん ① は弥生時代以降もしばらくは人々の住まいとして利用され、奈良時代になると、平城京の貴族はかわらぶきの屋根をかけた広い屋しきに住むようになったのね。

やよいさん 平安時代になると、②平安京の貴族は寝殿造と呼ばれるつくりの広い屋しきに住むようになり、唐風の文化をもとにした日本独自の文化を生み出していったようよ。

さつきさん 武士が中心の世の中になって、③室町時代には現在の和室の原型となる書院造という建築様式が生まれたわ。

やよいさん 江戸時代になると、江戸や京都、大阪などの大きな都市が栄え始めたの。都市部では、道路に面して商店が立ち並び、その裏側に住まいとなる町屋や長屋が密集していたようよ。

さつきさん 明治時代になって欧米の文化が導入され始めると、輸入した材料や建具などを使った洋館が建てられるようになったみたいね。

やよいさん ④日米修好通商条約で開かれた港のある都市には多くの外国人が住んでいたの、そこに洋館が数多く建てられ、小さな異人館街ができたそうよ。

さつきさん 第二次世界大戦後、各地ではバラックなどの仮設住宅が並んでいたけれど、その後、⑤高度経済成長による復興で急速に近代化が進み、郊外に巨大なニュータウンがつけられたのね。

やよいさん そして今では、地球温暖化対策のひとつとして、人と環境にやさしい「省エネ住宅」が登場しているね。

問1 対話文中の ① にあてはまる言葉を答えなさい。

問2 下線部②について、平安時代の貴族の文化の説明として正しいものを、次のア～エから1つ選び、記号で答えなさい。

ア 貴族の屋しきには、日本の風景などをえがいた水墨画^{すいぼくが}がかざられた。

イ 貴族の間で、能^{のう}や狂言^{きやうげん}などの芸能が親しまれた。

ウ かな文字が作られ、『源氏物語』^{げんじものがたり}などの作品が書かれた。

エ 貴族たちが集まって俳句^{はいく}をよむ会が、たびたび開かれた。

問3 下線部③について、室町時代の3代目の将軍である足利義満^{あしかがよしみつ}が建てた建造物として正しいものを、次のア～エから1つ選び、記号で答えなさい。

ア



イ



ウ



エ



問4 下線部④について、日米修好通商条約で開かれた5つの港の組み合わせとして正しいものを、次のア～エから1つ選び、記号で答えなさい。

ア 函館^{はこだて}、横浜^{よこはま}、下田^{しもだ}、神戸^{こうべ}、博多^{はかた} イ 函館、新潟、横浜、博多、長崎

ウ 新潟、横浜、下田、神戸、長崎 エ 函館、新潟、横浜、神戸、長崎

問5 下線部⑤について、高度経済成長期のできごとを説明した次の文の にあてはまる言葉を、漢字6字で書きなさい。

1964年に、東京と大阪を結ぶ が開通した。